
 CENTRE INTEGRAT FP NAUTICOPESQUERA Palma de Mallorca	CIFP NAUTICOPESQUERA		Convocatòria: 2025
	PATRÓ LOCAL DE PESCA		
	SECCIÓ PONT		Data: 12/11/2025

DNI	LLETRA	#P	#R	A	E	B	NOTA
		60	4				
Criteris de qualificació: Prova tipus test de 60 preguntes. Cada resposta encertada suma 0,166 punts. Cada resposta errada resta 0,056 punts (3 errades resten 1 encertada). En blanc no resten.							
Temps: 90'							
Observacions: Una única resposta vàlida per pregunta. Cal anotar les respostes al full del final.							


LEGISLACIÓ PESQUERA BÀSICA NACIONAL I COMUNITARIA

- ¿Qué organismo tiene competencias en la política pesquera española?
 - La Unión Europea
 - El Estado español
 - La comunidad autónoma
 - Todas son correctas
- ¿Qué se entiende por limitación del esfuerzo pesquero?
 - Restringir el tamaño de la flota en el mar y el tiempo que puede estar faenando
 - Restringir la cantidad de pescado que puede capturarse en el mar
 - Establecer tallas y mallas mínimas para los peces y artes de pesca, respectivamente.
 - Son planes plurianuales que establece la UE según las directrices de la política pesquera común
- ¿A qué importe corresponde una sanción pecuniaria por infracción grave de 2º grado?
 - De 401 a 600 €
 - De 601 a 15000 €
 - De 15001 a 40000 €
 - De 40001 a 60000 €
- Según la Constitución Española, ¿quien ostenta la competencia exclusiva en materia de pesca en aguas interiores, marisqueo y acuicultura?
 - La Unión Europea
 - El Ministerio de Agricultura, Alimentación y Medio Ambiente
 - El Estado español
 - Las comunidades autónomas
- La Direcció General de Pesca i Medi Marí depende de:
 - La comunidad autónoma
 - El Govern de les Illes Balears
 - La Conselleria de Medi Ambient, Agricultura i Pesca
 - Todas son correctas

	CIFP NAUTICOPESQUERA	Convocatòria: 2025
	PATRÓ LOCAL DE PESCA	
	SECCIÓ PONT	Data: 12/11/2025

ARTS I APARELLS DE PESCA

6. ¿Cuántos días como mínimo tiene que descansar la flota arrastrera?
 - A. Dos días por semana
 - B. Los fines de semana más un día entre semana
 - C. Tres días por semana
 - D. B y C son correctas
7. La profundidad mínima de arrastre en aguas de las Islas Baleares es de:
 - A. 50 metros para embarcaciones con base en un puerto balear
 - B. 150 metros para embarcaciones sin base en un puerto balear
 - C. 35 metros
 - D. A y B son correctas
8. ¿Qué condiciones deben cumplir las embarcaciones dedicadas a la pesca artesanal en las Islas Baleares?
 - A. Tener una eslora entre 5 y 9 metros
 - B. No superar los 10 GT
 - C. Tener una potencia máxima de 120 CV
 - D. Todas son correctas
9. Las artes que una vez caladas permanecen fijas en su posición hasta que son removidas, siendo las especies objetivo las que van a su encuentro, se denominan:
 - A. Artes activas
 - B. Artes pasivas
 - C. Artes de malla
 - D. Artes de anzuelo
10. En el palangre, el cabo que va unido a la madre y en el extremo lleva empatado un anzuelo se denomina:
 - A. Calamento
 - B. Gallo
 - C. Cofa
 - D. Brazolada
11. ¿Cuál es la función de la jareta?
 - A. Cerrar la red por la parte superior
 - B. Es un elemento del copo
 - C. Sirve para sujetar el extremo de la traña
 - D. Cerrar el cerco por debajo

	CIFP NAUTICOPESQUERA	Convocatòria: 2025
	PATRÓ LOCAL DE PESCA	
	SECCIÓ PONT	Data: 12/11/2025

12. El término inglés "*purse seine*" va referido al arte de:

- A. Arrastre
- B. Cerco
- C. Palangre
- D. Enmalle

13. En una almadraba el paño de red que va desde la costa hasta el cuadro se denomina:

- A. Rabera de tierra
- B. Rabera de fuera
- C. Bichero
- D. Legítima

14. Si tenemos un roto en la red, la unión de tres lados de malla se denomina:

- A. Ojo
- B. Luz
- C. Pie
- D. Ninguna es correcta

CONSTRUCCIÓ NAVAL I TEORIA DEL BUC

15. La capacidad de un buque de volver a su posición de equilibrio después de haber sido escorado por efecto del viento o del oleaje se denomina:


- A. Estabilidad
- B. Solidez
- C. Estanqueidad
- D. Resistencia

16. Los refuerzos estructurales transversales a modo de costillas que se apoyan en la quilla y son simétricos respecto al plano de crujía se denominan:

- A. Vagras
- B. Cuadernas
- C. Varengas
- D. Baos

17. La distancia entre la línea de flotación y la cubierta principal del buque, que viene a representar la reserva de flotabilidad y se mide siempre en la parte central del buque, se denomina:

- A. Eslora
- B. Manga
- C. Francobordo
- D. Calado

	CIFP NAUTICOPESQUERA	Convocatòria: 2025
	PATRÓ LOCAL DE PESCA	
	SECCIÓ PONT	Data: 12/11/2025

18. La distancia que resulta de restar el calado de popa menos el calado de proa se denomina:

- A. Francobordo
- B. Asiento
- C. Puntal
- D. Arqueo

19. La distancia del centro de gravedad G al metacentro M se denomina:

- A. Radio metacéntrico
- B. Par adrizante
- C. Brazo de estabilidad
- D. Altura metacéntrica

REGLAMENTS, SENYALS I ABALISSAMENTS

20. El Reglamento internacional para prevenir los abordajes se aplica:

- A. A todos los buques solo en alta mar
- B. A los buques en alta mar excepto a los buques de vela
- C. A los buques en alta mar excepto a los buques de pesca
- D. A todos los buques en alta mar y en todas las aguas que tengan comunicación con ella y sean navegables

21. La maniobra siempre recomendada para evitar una situación de aproximación, con espacio suficiente, es la de:


- A. Variar la velocidad
- B. Parar la arrancada
- C. Contactar por radio VHF
- D. Cambiar de rumbo

22. De día y con buena visibilidad, un buque que exhibe dos bolas negras es un:

- A. Buque sin gobierno
- B. Buque varado
- C. Buque fondeado
- D. Buque restringido por su calado

23. Un buque de pesca que mientras sale de puerto exhibe una marca que consiste en dos conos unidos por sus vértices es un:

- A. Buque de cerco
- B. Buque de arrastre
- C. Buque que incumple el Reglamento de abordajes pues exhibe marcas sin estar faenando
- D. A y B son correctas

	CIFP NAUTICOPESQUERA	Convocatòria: 2025
	PATRÓ LOCAL DE PESCA	
	SECCIÓ PONT	Data: 12/11/2025

24. Un buque que de noche, además de las luces blancas todo horizonte de fondeo, exhibe dos luces rojas todo horizonte en línea vertical, es un:

- A. Buque restringido por su calado
- B. Buque sin gobierno
- C. Buque con capacidad de maniobra restringida
- D. Buque varado

25. Un buque que de noche exhibe dos luces todo horizonte, verde la superior y blanca la inferior, es un:

- A. Buque de cerco
- B. Embarcación de práctico
- C. Buque de arrastre
- D. Buque con capacidad de maniobra restringida

26. Una marca que de noche exhibe luces blancas al ritmo de seis centelleos rápidos más un destello largo, es una marca:

- A. Cardinal norte
- B. Aguas navegables
- C. Peligro aislado
- D. Ninguna es correcta

BIOLOGIA PESQUERA

27. La luz solar penetra en el agua hasta la profundidad teórica de:


- A. 50 m
- B. 100 m
- C. 200 m
- D. 300 m

28. Los peces que viven cerca del fondo pero que se desligan de él bajo determinados factores son los:

- A. Elasmobranquios
- B. Demersales
- C. Bentónicos
- D. Pelágicos

29. En una hipotética cadena trófica marina de 4 niveles, los animales del tercer nivel se alimentarían de:

- A. Zooplancton
- B. Fitoplancton
- C. Atunes
- D. Sardinas

	CIFP NAUTICOPESQUERA	Convocatòria: 2025
	PATRÓ LOCAL DE PESCA	
	SECCIÓ PONT	Data: 12/11/2025

30. Los peces que presentan las aletas ventrales en posición más adelantada que las pectorales son los:

- A. Abdominales
- B. Torácicos
- C. Yugulares
- D. Ventrales

31. Un pulpo es un:

- A. Molusco
- B. Cefalópodo
- C. Crustáceo
- D. A y B son correctas

NAVEGACIÓ COSTANERA I CONEIXEMENTS D'OCEANOGRÀFIA I METEOROLOGIA DE LA ZONA

32. La dirección, representada sobre una representación gráfica de la superficie del mar, de una trayectoria que se quiere seguir con respecto a la superficie de la tierra se denomina:

- A. Marea
- B. Derrota
- C. Recalada
- D. Enfilación

33. La distancia vertical de agua que queda entre el fondo del mar y la parte más sumergida del buque se denomina:


- A. Altura de la marea
- B. Sonda de la carta
- C. Margen de seguridad
- D. Clara bajo quilla

34. El ángulo tomado desde la visual a un punto notable de la costa en relación con el Norte (N), midiéndose desde 000°, en el sentido de las agujas del reloj, hasta los 360° se denomina:

- A. Demora
- B. Marcación
- C. Oposición
- D. Enfilación

35. La distancia angular medida sobre un meridiano desde el Ecuador hacia el norte o hacia el sur hasta los polos se denomina:

- A. Latitud
- B. Longitud
- C. Paralelo
- D. Azimut

	CIFP NAUTICOPESQUERA	Convocatòria: 2025
	PATRÓ LOCAL DE PESCA	
	SECCIÓ PONT	Data: 12/11/2025

36. Los círculos máximos que pasan por los polos se denominan:

- A. Paralelos
- B. Ecuador
- C. Trópicos
- D. Meridianos

37. La coordenada Longitud se mide:

- A. De 0° a 360°
- B. De 0° a 180° , al E o al W
- C. De 0° a 90° , al N o al S
- D. Cuadrantalmente

38. El meridiano de referencia desde el que se mide la Longitud se denomina:

- A. Ecuador
- B. Greenwich
- C. Magnético
- D. Eje polar

39. La velocidad del buque se mide en:

- A. Millas
- B. Cables
- C. Brazas
- D. Nudos

40. Si vemos la expresión S30E significa que estamos midiendo el rumbo en:


- A. Circular
- B. Por cuartas
- C. Cuadrantal
- D. Sexagesimal

41. ¿A qué equivale una milla náutica?

- A. 1852 metros
- B. Un minuto de meridiano
- C. 10 cables
- D. Todas son correctas

42. El ángulo que, en el plano del horizonte, forma la proa del buque con la visual a un punto notable de la costa se denomina:

- A. Demora
- B. Marcación
- C. Oposición
- D. Enfilación

	CIFP NAUTICOPESQUERA	Convocatòria: 2025
	PATRÓ LOCAL DE PESCA	
	SECCIÓ PONT	Data: 12/11/2025

43. La escala que clasifica la intensidad del viento en función de su velocidad se denomina:

- A. Fahrenheit
- B. Beaufort
- C. Douglas
- D. Celsius

44. Las siglas ARPA equivalen a un equipo:

- A. De cartas náuticas electrónicas
- B. ECDIS
- C. GPS
- D. Radar

45. Las líneas que unen puntos de igual presión atmosférica se denominan:

- A. Isalóbaras
- B. Isotermas
- C. Isóbaras
- D. Milibares

46. ¿Cómo se denomina en las Islas Baleares el viento procedente del sureste SE?

- A. Mestral
- B. Llebeig
- C. Gregal
- D. Xaloc

47. El instrumento que utilizamos para medir la presión atmosférica se denomina:

- A. Barómetro
- B. Termómetro
- C. Higrómetro
- D. Anemómetro


COMUNICACIONS

48. Según el GMDSS se debe mantener escucha continua en VHF en:

- A. Canal 6
- B. Canal 13
- C. Canal 16
- D. Todas son correctas

49. ¿Cómo se denomina el botón rojo que se debe pulsar en caso de tener que transmitir un socorro?

- A. Socorro
- B. Mayday
- C. Distress
- D. Urgency

	CIFP NAUTICOPESQUERA	Convocatòria: 2025
	PATRÓ LOCAL DE PESCA	
	SECCIÓ PONT	Data: 12/11/2025

50. El canal por el que se transmite la llamada selectiva digital de VHF es el:

- A. Canal 9
- B. Canal 10
- C. Canal 16
- D. Canal 70

MANIOBRA DELS VAIXELLS DE PESCA

51. Si la hélice de nuestro buque es dextrógira significa que:

- A. Vista desde popa la hélice gira hacia la izquierda
- B. Vista desde popa la hélice gira hacia la derecha
- C. La popa cae a estribor con la hélice marcha atrás
- D. B y C son correctas

52. ¿Qué significa poner el timón a la vía?

- A. Poner el timón con ángulo 0
- B. Poner el timón en dirección longitudinal
- C. Poner el timón en la posición de mayor resistencia
- D. A y B son correctas

53. ¿Qué significa bornear?

- A. Fondear con dos anclas
- B. Es el giro que describe la embarcación mientras está fondeada
- C. Garrear el ancla sobre fondos blandos o arenosos
- D. Rolar el viento

54. A la hora de fondear, ¿cuál es la cantidad recomendable de cadena a filar, en condiciones normales?


- A. Entre 1 y 2 veces la sonda
- B. Entre 2 y 3 veces la sonda
- C. Entre 3 y 4 veces la sonda
- D. Entre 4 y 5 veces la sonda

55. Si tuviéramos que fondear en tiempos duros, ¿cuáles serían las medidas a tomar?

- A. Fondear al menos 8 grilletes
- B. Tener el ancla del otro costado preparada por si hay que dar fondo con las dos
- C. Tener la máquina preparada para poder utilizarla en cualquier momento
- D. Todas son correctas

56. Los mejores fondos para fondear son los de:

- A. Arena gruesa
- B. Algas
- C. Rocas
- D. Ninguna es correcta

	CIFP NAUTICOPESQUERA	Convocatòria: 2025
	PATRÓ LOCAL DE PESCA	
	SECCIÓ PONT	Data: 12/11/2025

57. ¿Cómo se denomina la expresión cuando durante un temporal no sea de gran fuerza se pone proa a la mar y se aguanta con la potencia de máquina necesaria para poder mantener el rumbo?

- A. Correr el temporal
- B. Aguantar el temporal
- C. Capear el temporal
- D. Ninguna es correcta

58. El remolque que se efectúa para sacar de peligro y salvar a un buque que navega en malas condiciones o con averías, y que puede ser llevado a cabo por otro buque o un remolcador, se denomina:

- A. Remolque accidental o de emergencia
- B. Remolque transporte
- C. Remolque maniobra
- D. Remolque portuario

59. La maniobra destinada a revirar el buque 180° en el menor espacio posible, utilizando únicamente el efecto combinado hélice-timón, se denomina:

- A. Abarloar
- B. Ciabogar
- C. Virar
- D. Ceñir

60. ¿Cómo se denomina la maniobra que consiste en situar una embarcación por uno de sus costados junto a otra?

- A. Varar
- B. Bogar
- C. Virar
- D. Abarloar

**CIFP NAUTICOPESQUERA****PATRÓ LOCAL DE PESCA****SECCIÓ PONT**

Convocatòria: 2025

Data: /2/11/2025

DNI	LLETRA	#P	#R	A	E	B	NOTA
C O R R E C C I O		60	4				

Criteris de qualificació: Prova tipus test de 60 preguntes. Cada resposta encertada suma 0,166 punts. Cada resposta errada resta 0,056 punts (3 errades resten 1 encertada). En blanc no resten.

FULL DE RESPOSTES: Indica la teva resposta (A, B, C o D) a la columna RESPOSTA. Per deixar la resposta en blanc no pot haver-hi res escrit. No escriquis res a la columna CORRECCIÓ (gris); és espai reservat per al corrector.

PREGUNTA	RESPOSTA	CORRECCIÓ	PREGUNTA	RESPOSTA	CORRECCIÓ
1	D		31	D	
2	A		32	B	
3	C		33	D	
4	D		34	A	
5	D		35	A	
6	A		36	D	
7	D		37	B	
8	D		38	B	
9	B		39	D	
10	D		40	C	
11	D		41	D	
12	B		42	B	
13	A		43	B	
14	C		44	D	
15	A		45	C	
16	B		46	D	
17	C		47	A	
18	B		48	C	
19	D		49	C	
20	D		50	D	
21	D		51	B	
22	A		52	D	
23	C		53	B	
24	D		54	C	
25	C		55	D	
26	D		56	A	
27	C		57	C	
28	B		58	A	
29	A		59	B	
30	C		60	D	

